

PROVA N. 1

1) Il candidato illustri le procedure da seguire e gli istituti di riferimento nel caso pratico di seguito prospettato: Il responsabile dell'UTC rifiuta di predisporre misure idonee, da adottare senza ritardo, volte a eliminare un pericolo esistente su una strada comunale segnalato dalla Polizia Municipale e dagli abitanti e di avvisare mediante collocazione di segnaletica la pericolosità agli utenti.

2) Il candidato illustri le procedure da seguire e gli istituti di riferimento nel caso pratico di seguito prospettato: Al Comando giunge una segnalazione di un probabile servizio di ncc abusivo in sosta nella piazza cittadina.

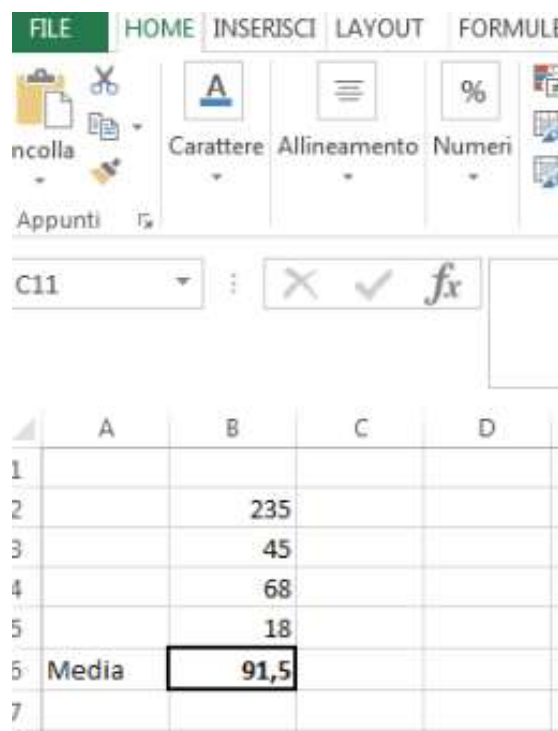
3) Il Piano esecutivo di gestione (PEG). Il candidato ne delinei i contenuti principali e l'organo che lo approva.

Lingua inglese - Il candidato legga e traduca il seguente brano:

A great summer vacation

I just returned from the greatest summer vacation! It was so fantastic, I never wanted it to end. I spent eight days in Paris, France. My best friends, Henry and Steve, went with me. We had a beautiful hotel room in the Latin Quarter, and it wasn't even expensive. We had a balcony with a wonderful view.

Informatica - Il candidato calcoli la media dei numeri come nell'esempio sottostante:



The screenshot shows the Microsoft Excel interface. The ribbon is set to 'HOME'. The 'Appunti' (Clipboard) group is visible on the left. The 'Carattere' (Font) group shows 'A' in blue. The 'Allineamento' (Alignment) group shows the center alignment icon. The 'Numeri' (Numbers) group shows the percentage icon. The active cell is C11, and the formula bar shows a function icon (fx). Below the ribbon, a table is displayed with the following data:

	A	B	C	D
1				
2		235		
3		45		
4		68		
5		18		
6	Media	91,5		
7				

PROVA N. 2

1) Il candidato illustri le procedure da seguire e gli istituti di riferimento nel caso pratico di seguito prospettato : Al comando giunge una segnalazione che nel parcheggio comunale un veicolo è stato lasciato in modo tale da ostruire l'unica via che consente ad altra autovettura di uscire dal parcheggio. Il conducente sebbene avvisato se ne è comunque andato via.

2) Il candidato illustri le procedure da seguire e gli istituti di riferimento nel caso pratico di seguito prospettato : L'amministrazione Comunale intende istituire nel centro storico cittadino una zona a traffico limitato prevedendo anche l'installazione di varchi elettronici per il controllo telematico degli accessi.

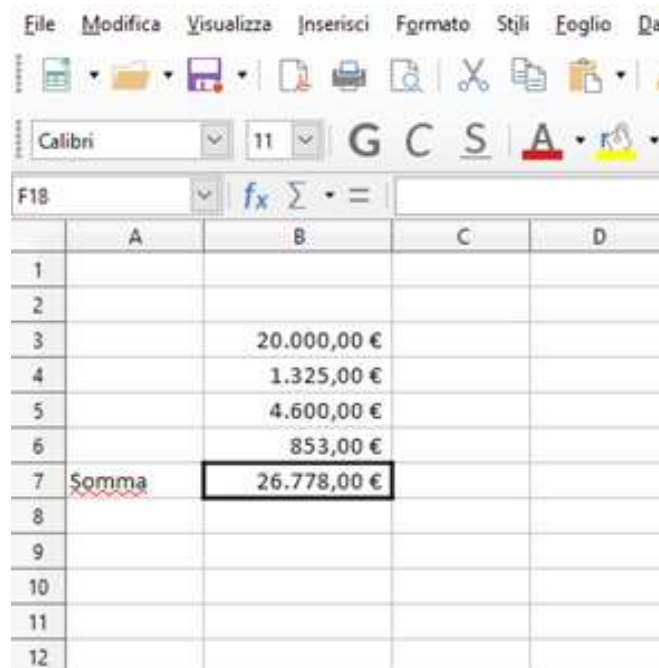
3) Il candidato illustri i doveri del dipendente pubblico.

Lingua inglese - Il candidato legga e traduca il seguente brano:

A great summer vacation

We visited many famous tourist places. My favorite was the Louvre, a well-known museum. I was always interested in art, so that was a special treat for me. The museum is so huge, you could spend weeks there. Henry got tired walking around the museum and said "Enough! I need to take a break and rest."

Informatica - Il candidato calcoli la somma dei numeri come nell'esempio sottostante.



The image shows a screenshot of a spreadsheet application. The menu bar includes 'File', 'Modifica', 'Visualizza', 'Inserisci', 'Formato', 'Stili', 'Foglio', and 'Dat'. The toolbar contains icons for file operations and editing. The formula bar shows 'F18' and the formula '=SUM(B3:B6)'. The spreadsheet grid has columns A, B, C, and D, and rows 1 through 12. The data in column B is as follows:

	A	B	C	D
1				
2				
3		20.000,00 €		
4		1.325,00 €		
5		4.600,00 €		
6		853,00 €		
7	Somma	26.778,00 €		
8				
9				
10				
11				
12				

PROVA N. 3

1) Il candidato illustri le procedure da seguire e gli istituti di riferimento nel caso pratico di seguito prospettato: Si rivolge al Comando un signore il quale espone che dovendo acquistare urgentemente medicinali per il figlio malato si è recato alla locale farmacia comunale che avrebbe dovuto essere aperta per turno di reperibilità, ma che invece risultata chiusa.

2) Il candidato illustri le procedure da seguire e gli istituti di riferimento nel caso pratico di seguito prospettato: Al Comando giungono segnalazioni che in una civile abitazione è presumibile che sia stato realizzato un b&b abusivo.

3) Il candidato parli della determina a contrarre e delle fasi di gestione della spesa.

Lingua inglese - Il candidato legga e traduca il seguente brano:

A great summer vacation

We took lots of breaks and sat in cafes along the river Seine. The French food we ate was delicious. The wines were tasty, too. Steve's favorite part of the vacation was the hotel breakfast. He said he would be happy if he could eat croissants like those forever. We had so much fun that we're already talking about our next vacation!

Informatica - Il candidato utilizzando la corretta formattazione, trasformi i numeri di colonna A in valuta con simbolo € e 2 cifre dopo la virgola come nell'esempio sottostante.

	A	B	C	D
1				
2				
3	2456	€ 2.456,00		
4	10000	€ 10.000,00		
5	589	€ 589,00		
6	465	€ 465,00		
7	125	€ 125,00		
8				
9				
10				
11				

PROVA N. 4

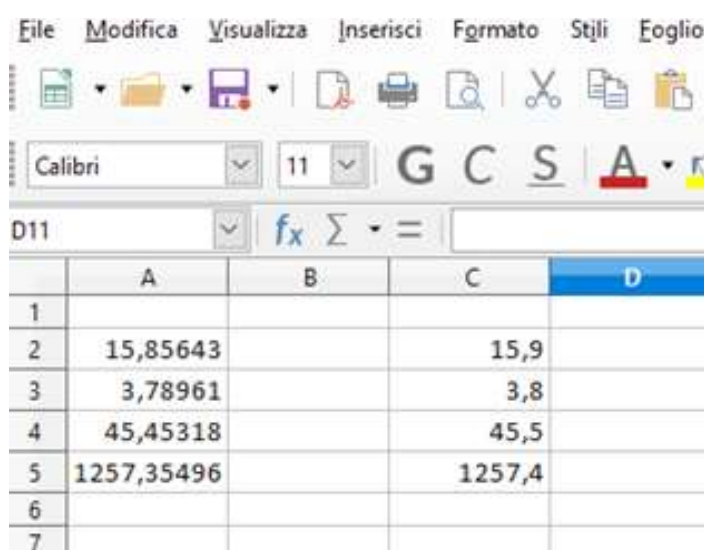
- 1) Il candidato illustri le procedure da seguire e gli istituti di riferimento nel caso pratico di seguito prospettato: La pattuglia in servizio nel centro storico sorprende un minorenne che sta imbrattando un monumento storico.
- 2) Il candidato illustri le procedure da seguire e gli istituti di riferimento nel caso pratico di seguito prospettato: Durante un servizio di viabilità vengono rinvenuti alcuni cartelli pubblicitari abusivi che reclamizzano una attività commerciale affissi alla segnaletica stradale.
- 3) Il candidato illustri le principali competenze del responsabile del servizio.

Lingua inglese - Il candidato legga e traduca il seguente brano:

The Coach Hotel – Patsy writes:

6 of us stayed here for the weekend. The first thing we noticed on entering our room was how small it was. Our rooms were clean, but the bed cover was stained. The furniture was really outdated, especially the bathroom, which had an old pink suite and linoleum on the floor. The 'shower' was a hose that you fit onto the taps.

Informatica - Il candidato, utilizzando una funzione, faccia apparire in colonna C i corrispondenti valori di colonna A, arrotondati a una cifra decimale, come nell'esempio sottostante.



	A	B	C	D
1				
2	15,85643		15,9	
3	3,78961		3,8	
4	45,45318		45,5	
5	1257,35496		1257,4	
6				
7				

PROVA N. 5

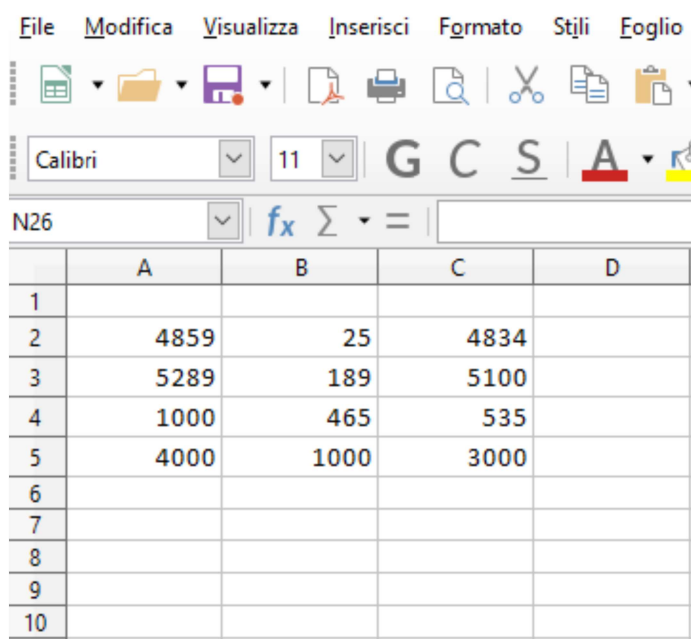
- 1) Il candidato illustri le procedure da seguire e gli istituti di riferimento nel caso pratico di seguito prospettato: Durante un controllo in un esercizio commerciale vengono rinvenute borse e indumenti contraffatti posti in vendita. Gli oggetti riproducono quasi fedelmente brand famosi che avrebbero potuto tranne in inganno gli acquirenti.
- 2) Il candidato illustri le procedure da seguire e gli istituti di riferimento nel caso pratico di seguito prospettato: Durante un sopralluogo è stato rinvenuto un capannone in disuso che veniva utilizzato come deposito di numerose autovetture, già smantellate dei relativi pezzi di ricambio.
- 3) Il candidato illustri il diritto di accesso agli atti e le ipotesi di divieto.

Lingua inglese - Il candidato legga e traduca il seguente brano:

The Coach Hotel - MellowBunny writes:

Just returned from a 3 day break here, and thought that the Coach Hotel was very good value for money. I had requested a quiet room and this was noted at reception. I got a great room - large, comfortable and clean, with a seating area overlooking the racecourse. The only disappointing thing was that there were no tea/coffee facilities in the room - not even a kettle.

Informatica - Il candidato, utilizzando una funzione, faccia apparire in colonna C la differenza tra i valori tra colonna A e colonna B, come nell'esempio sottostante.



	A	B	C	D
1				
2	4859	25	4834	
3	5289	189	5100	
4	1000	465	535	
5	4000	1000	3000	
6				
7				
8				
9				
10				

PROVA N. 6

1) Il candidato illustri le procedure da seguire e gli istituti di riferimento nel caso pratico di seguito prospettato: Durante una istruttoria edilizia la polizia municipale verifica che il proprietario di un immobile riporta dati falsi circa l'epoca di ultimazione dei lavori in una pratica edilizia per la quale era stata avanzata istanza di sanatoria.

2) Il candidato illustri le procedure da seguire e gli istituti di riferimento nel caso pratico di seguito prospettato: Al comando giungono segnalazioni che nel giardino pubblico nei pressi dell'istituto scolastico, ove si ritrovano spesso i bambini, stazionano frequentemente alcune persone adulte, spesso ubriache che compiono anche atti contrari alla pubblica decenza.

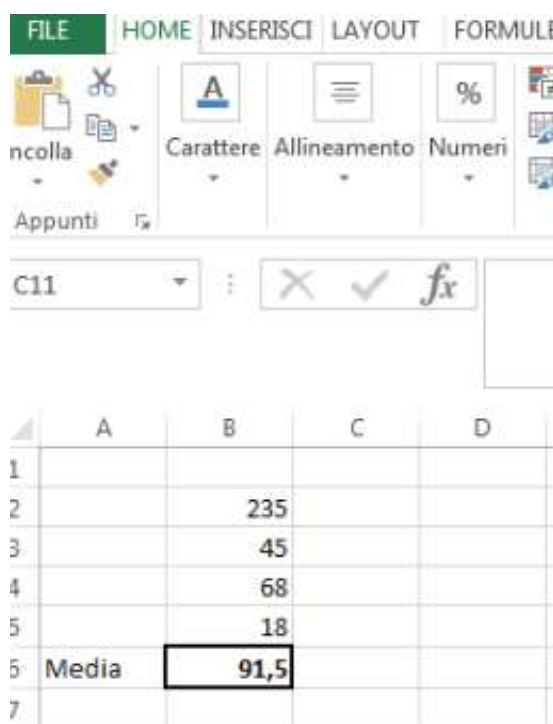
3) Il candidato illustri l'istituto dell'accesso civico.

Lingua inglese - Il candidato legga e traduca il seguente brano:

The Coach Hotel - TomWheeler writes:

The hotel's is just 200 metres walk away from the racecourse, so it's really convenient. There's plenty of space to park. The bed was comfortable with clean cotton sheets. Good power shower. I would agree with some of the less favourable reviews on the site too, though. The room definitely needed some attention – it smelt musty and the furniture was old, cheap and battered.

Informatica - Il candidato calcoli la media dei numeri come nell'esempio sottostante.



The screenshot shows the Microsoft Excel interface. The ribbon includes FILE, HOME, INSERISCI, LAYOUT, and FORMULE. The HOME ribbon is active, showing options for Carattere, Allineamento, and Numeri. The active cell is C11, and the formula bar shows the function =AVERAGE(B1:B5). The spreadsheet grid shows the following data:

	A	B	C	D
1				
2		235		
3		45		
4		68		
5		18		
5	Media	91,5		
7				

PROVA N. 7

1) Il candidato illustri le procedure da seguire e gli istituti di riferimento nel caso pratico di seguito prospettato: Durante un servizio di vigilanza la pattuglia riscontra che un veicolo espone un contrassegno handicap contraffatto che da ulteriori accertamenti non risulta intestato alla persona che lo ha usato.

2) Il candidato illustri le procedure da seguire e gli istituti di riferimento nel caso pratico di seguito prospettato: Durante un controllo nel centro storico la pattuglia in servizio verifica che nell'esercizio di vicinato del settore alimentare dopo aver collocato tavolini sia all'interno che all'esterno del locale vengono somministrate e servite pietanze.

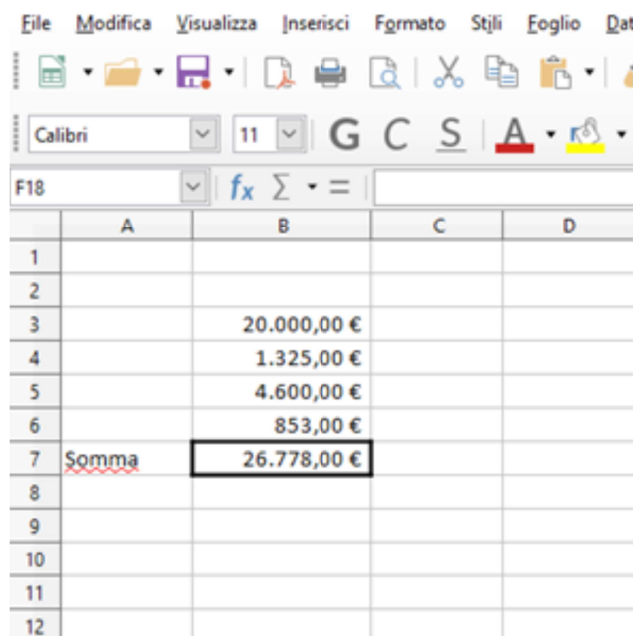
3) Il Piano esecutivo di gestione (PEG). Il candidato ne delinei i contenuti principali e l'organo che lo approva

Lingua inglese - Il candidato legga e traduca il seguente brano:

The Coach Hotel - JadeUnicorn writes:

Don't be fooled by the pictures online. What you see is definitely NOT what you get! First, it's not close to the city centre – it's at least a 35 minute walk. Furniture was old and dated, although the bed was comfortable. Tiny bathroom, with an absurdly loud extractor fan. No lock on the bathroom door and no toiletries, not even soap. There were cobwebs all over the hotel.

Informatica - Il candidato calcoli la somma dei numeri come nell'esempio sottostante.



The screenshot shows a spreadsheet application window with the following data:

	A	B	C	D
1				
2				
3		20.000,00 €		
4		1.325,00 €		
5		4.600,00 €		
6		853,00 €		
7	Somma	26.778,00 €		
8				
9				
10				
11				
12				

PROVA N. 8

1) Il candidato illustri le procedure da seguire e gli istituti di riferimento nel caso pratico di seguito prospettato: Da alcuni riscontri emerge che l'albergatore Caio non abbia versato per alcuni anni consecutivi l'imposta di soggiorno al Comune ove ha sede la struttura ricettiva

2) Il candidato illustri le procedure da seguire e gli istituti di riferimento nel caso pratico di seguito prospettato: Durante il servizio di controllo stradale si appura che un cittadino residente in Italia sta circolando con un veicolo con targa estera, il candidato illustri la fattispecie normativa e gli atti da redigere in caso di contestazione di violazione al codice della strada.

3) Le occupazioni di suolo pubblico.

Lingua inglese - Il candidato legga e traduca il seguente brano:

Memorandum - To all staff

The hospital is always trying to cut its carbon footprint, and to do this, we want to encourage staff, visitors and patients to use environmentally-friendly forms of transport to and from the hospital. Therefore, we are making the following changes, which will come into effect from 1st April: Car Park A will stay as a staff car park.

Informatica - Il candidato utilizzando la corretta formattazione, trasformi i numeri di colonna A in valuta con simbolo € e 2 cifre dopo la virgola come nell'esempio sottostante.

	A	B	C	D
1				
2				
3	2456	€ 2.456,00		
4	10000	€ 10.000,00		
5	589	€ 589,00		
6	465	€ 465,00		
7	125	€ 125,00		
8				
9				
10				
11				

PROVA N. 9

1) Il candidato illustri le procedure da seguire e gli istituti di riferimento nel caso pratico di seguito prospettato: Un imprenditore dà a un consigliere comunale 25.000 euro per far sì che i propri progetti imprenditoriali trovino esecuzione grazie al favore politico: che reato si configura?

2) Il candidato illustri le procedure da seguire e gli istituti di riferimento nel caso pratico di seguito prospettato: Gli abitanti di una frazione segnalano al Comando che spesso nei fine settimana lungo la strada della zona industriale si disputano corse clandestine con auto truccate.

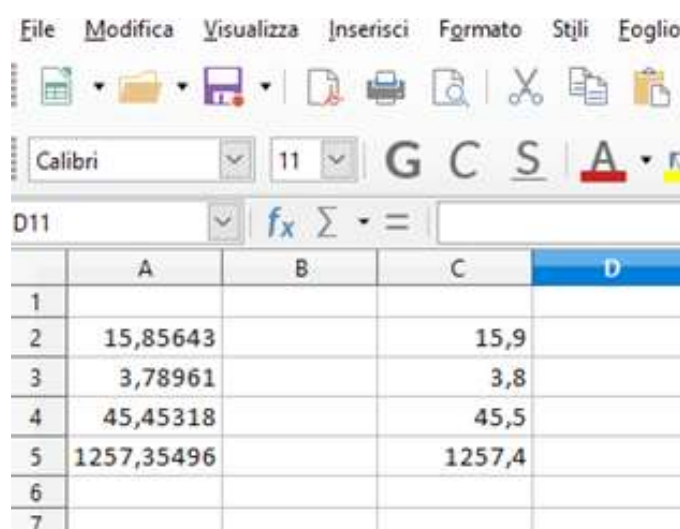
3) Il candidato illustri il diritto di accesso agli atti e le ipotesi di divieto.

Lingua inglese - Il candidato legga e traduca il seguente brano:

Form and Colour

This is year-long course is perfect for people who want to learn about how to use a camera and who want to take it up as a profession. Students will learn how to use light and shade, colour and different shapes. The course will also teach students to change their work using computer technology. Tips will be given on how best to get started in the profession.

Informatica - Il candidato, utilizzando una funzione, faccia apparire in colonna C i corrispondenti valori di colonna A, arrotondati a una cifra decimale, come nell'esempio sottostante.



	A	B	C	D
1				
2	15,85643		15,9	
3	3,78961		3,8	
4	45,45318		45,5	
5	1257,35496		1257,4	
6				
7				

PROVA N. 10

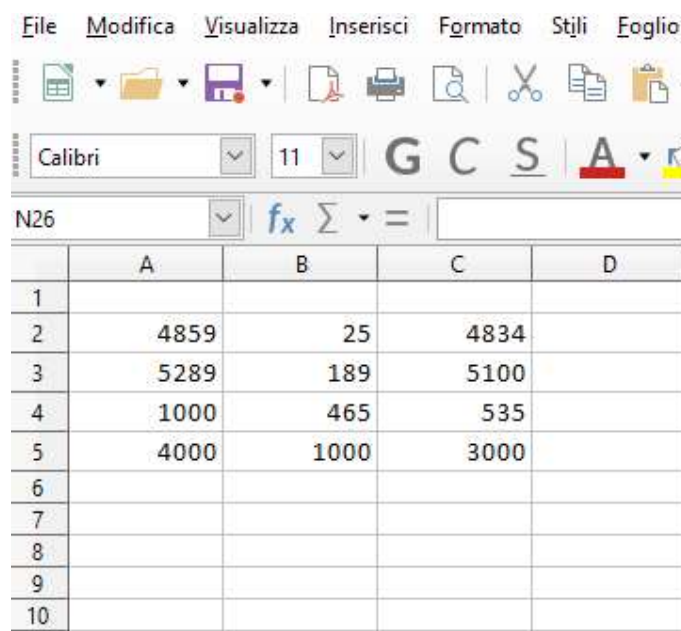
- 1) Il candidato illustri le procedure da seguire e gli istituti di riferimento nel caso pratico di seguito prospettato: La pattuglia viene chiamata da un titolare di una azienda, al quale un suo dipendente che non riscuote da alcuni mesi lo stipendio, ha violentemente danneggiato l'auto con un martello e lo ha percosso.
- 2) Il candidato illustri le procedure da seguire e gli istituti di riferimento nel caso pratico di seguito prospettato: Al Comando giunge una segnalazione di un probabile servizio di ncc abusivo in sosta nella piazza cittadina .
- 3) Il candidato illustri l'istituto dell'accesso civico.

Lingua inglese - Il candidato legga e traduca il seguente brano:

Technology for You.

Do you feel as if everyone is using a computer except you? Join in this five-day course and learn the basics. You'll learn how to store your personal files, send emails and use simple programmes, to write and print letters. In the afternoons you will have the choice of either learning how to make Birthday Cards and other designs on a computer.

Informatica - Il candidato, utilizzando una funzione, faccia apparire in colonna C la differenza tra i valori tra colonna A e colonna B, come nell'esempio sottostante.



	A	B	C	D
1				
2	4859	25	4834	
3	5289	189	5100	
4	1000	465	535	
5	4000	1000	3000	
6				
7				
8				
9				
10				

PROVA N. 11

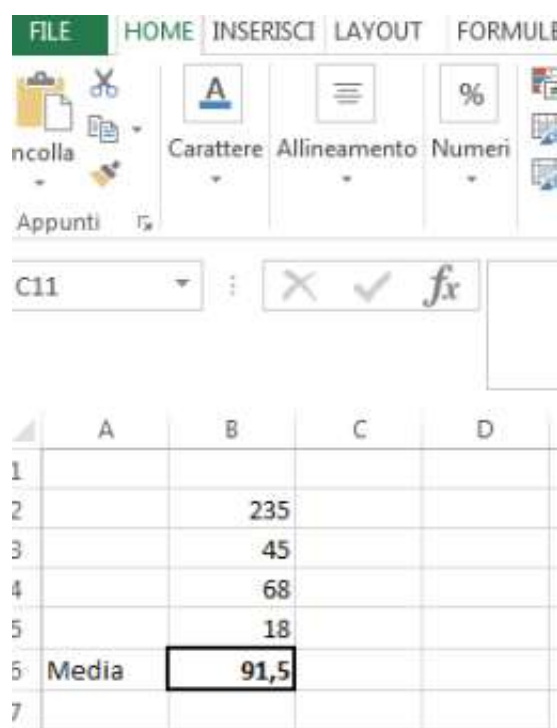
- 1) Il candidato illustri le procedure da seguire e gli istituti di riferimento nel caso pratico di seguito prospettato: Da alcuni riscontri emerge che l'albergatore Caio non abbia versato per alcuni anni consecutivi l'imposta di soggiorno al comune ove ha sede la struttura ricettiva.
- 2) Il candidato illustri le procedure da seguire e gli istituti di riferimento nel caso pratico di seguito prospettato: Al mercato settimanale viene trovato un cittadino extracomunitario che vende prodotti artigianali. Lo straniero è privo di documenti.
- 3) Il candidato parli della determina a contrarre e delle fasi di gestione della spesa.

Lingua inglese - Il candidato legga e traduca il seguente brano:

Wild Design

Whether you want a career in art, or you just want to enjoy your hobby, this holiday course is for you. Wild Design is a two-week summer course situated on the wild coast of South Wales. We teach all kinds of art, including photography and painting, and the wild sea, beautiful flowers and great wildlife will definitely give you lots of creative ideas.

Informatica - Il candidato calcoli la media dei numeri come nell'esempio sottostante.



The screenshot shows the Microsoft Excel interface. The ribbon is set to 'HOME'. The 'Carattere' (Font) group is active, showing options for text color, bold, italic, and underline. The 'Allineamento' (Alignment) group is also visible, showing options for text alignment and orientation. The 'Numeri' (Numbers) group is active, showing options for number format, percentage, and decimal places. The active cell is C11, and the formula bar shows the formula $=AVERAGE(B2:B6)$. The spreadsheet grid shows the following data:

	A	B	C	D
1				
2		235		
3		45		
4		68		
5		18		
5	Media	91,5		
7				

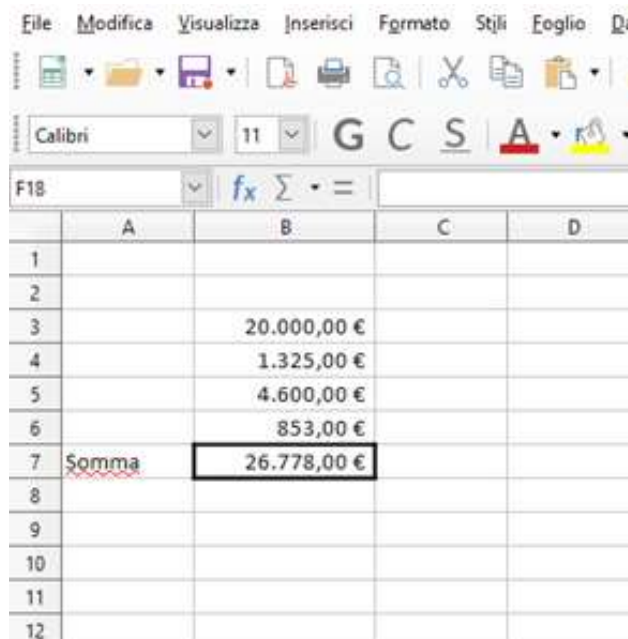
PROVA N. 12

- 1) Il candidato illustri le procedure da seguire e gli istituti di riferimento nel caso pratico di seguito prospettato: Un imprenditore dà a un consigliere comunale 25.000 euro per far sì che i propri progetti imprenditoriali trovino esecuzione grazie al favore politico: che reato si configura?
- 2) Il candidato illustri le procedure da seguire e gli istituti di riferimento nel caso pratico di seguito prospettato: Durante un controllo edilizio, viene appurato che i proprietari di un terreno agricolo, dopo aver proceduto ad un frazionamento in piccoli lotti poi venduti a diversi acquirenti, hanno realizzato alcune opere infrastrutturali quali una strada di collegamento tra i vari lotti e manufatti residenziali completi di logge e verande e dotati di tutti i comfort.
- 3) Il candidato illustri le principali competenze del responsabile del servizio.

Lingua inglese - Il candidato legga e traduca il seguente brano:

Are you interested in a career in art? If so, this full-time, eight-week course will be perfect for you. Learn about different methods used by artists, including painting, drawing, photography and computer design. Artists will create work for an exhibition which will be displayed in the Town Hall for one month in September.

Informatica - Il candidato calcoli la somma dei numeri come nell'esempio sottostante.



The image shows a screenshot of a spreadsheet application. The menu bar includes 'File', 'Modifica', 'Visualizza', 'Inserisci', 'Formato', 'Stili', 'Foglio', and 'Data'. The toolbar contains icons for file operations and editing. The formula bar shows 'F18' and the formula '=SUM(B3:B6)'. The spreadsheet grid has columns A, B, C, and D, and rows 1 through 12. The data in column B is as follows:

	A	B	C	D
1				
2				
3		20.000,00 €		
4		1.325,00 €		
5		4.600,00 €		
6		853,00 €		
7	Somma	26.778,00 €		
8				
9				
10				
11				
12				

PROVA N. 13

1) Il candidato illustri le procedure da seguire e gli istituti di riferimento nel caso pratico di seguito prospettato: Tizio asporta intenzionalmente la segnaletica di Stop posta sulla intersezione e danneggia una panchina comunale posta nei giardini pubblici.

2) Il candidato illustri le procedure da seguire e gli istituti di riferimento nel caso pratico di seguito prospettato: Nella frazione del comune molti cittadini si sono lamentati a causa dei continui abbandoni di rifiuti fuori dai cassonetti. Si rivolgono al Comando affinché intervenga risolutivamente.

3) Le occupazioni di suolo pubblico.

Lingua inglese - Il candidato legga e traduca il seguente brano:

This is a series of daytime lectures by people who have lived and worked in wild places. Each of the six talks will focus on a different continent. Lecturers will show photographs of the animals and plants, and explain why they are only found in one area. Lecturers will include Leo Holland, a scientist from the Antarctic project and Milly Oliphant.

Informatica - Il candidato utilizzando la corretta formattazione, trasformi i numeri di colonna A in valuta con simbolo € e 2 cifre dopo la virgola come nell'esempio sottostante.

	A	B	C	D
1				
2				
3	2456	€ 2.456,00		
4	10000	€ 10.000,00		
5	589	€ 589,00		
6	465	€ 465,00		
7	125	€ 125,00		
8				
9				
10				
11				

PROVA N. 14

1) Il candidato illustri le procedure da seguire e gli istituti di riferimento nel caso pratico di seguito prospettato: Durante un servizio di vigilanza la pattuglia riscontra che un veicolo espone un contrassegno handicap contraffatto che, da ulteriori accertamenti, non risulta intestato alla persona che lo ha usato.

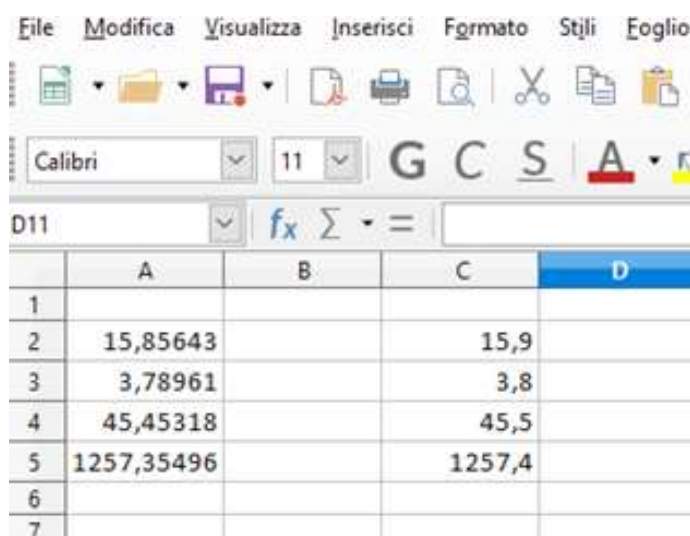
2) Il candidato illustri le procedure da seguire e gli istituti di riferimento nel caso pratico di seguito prospettato: L'Amministrazione Comunale intende realizzare un sistema di videosorveglianza finalizzato alla sicurezza urbana. Si illustri quanto necessario per attuare il sistema anche in riferimento agli aspetti di tutela della privacy.

3) Il candidato illustri i doveri del dipendente pubblico.

Lingua inglese - Il candidato legga e traduca il seguente brano:

Travel to a different wild place every week and learn how to take photographs of animals, plants and scenery. Our expert teachers will advise you how to take the best pictures. This course will run for six weeks on Saturdays. Students should already have a good understanding of photography and their own equipment.

Informatica - Il candidato, utilizzando una funzione, faccia apparire in colonna C i corrispondenti valori di colonna A, arrotondati a una cifra decimale, come nell'esempio sottostante.



The screenshot shows the Microsoft Excel interface. The menu bar includes File, Modifica, Visualizza, Inserisci, Formato, Stili, and Eoglio. The ribbon shows the Font section with options for Calibri, font size 11, Bold (G), Italic (C), Underline (S), and Text Color (A). The formula bar shows the formula =ROUND(A2;1) in cell D11. The spreadsheet grid shows columns A, B, C, and D, and rows 1 through 7. The data in column A is rounded to one decimal place in column C.

	A	B	C	D
1				
2	15,85643		15,9	
3	3,78961		3,8	
4	45,45318		45,5	
5	1257,35496		1257,4	
6				
7				